

الفصل الأول : اعرفني

المحور الأول : من  
أكون؟

حواسنا الخمس



ارسم خطوطًا لتوصيل كل حاسة بعضو الجسم المسؤول عنها.



الشم



التذوق



البصر



اللمس



السمع





صِل العَيْنَ بما يمكن أن تراه.



ضع علامة (√) عند الصوت الذي تحب سماعه، وعلامة (x) عند الصوت الذي يزعجك.



( )

( )

( )

ارسّم دائرة زرقاء حول الأشياء ذات الملمس البارد، ودائرة حمراء حول الأشياء ذات الملمس الساخن.





## تعرف على أصدقاء جدد.



مرحبًا، اسمي كريم.  
وشعري قصير .  
وأرتدي نظارة طبية .



مرحبًا، اسمي شريف.  
وعمري ثماني سنوات.  
وقميصي المفضل لونه  
أخضر.



مرحبًا، اسمي منى .  
وعمري سبع سنوات.  
وأحب أن أضفر شعري.

ما أوجه الاختلاف بينهم، وما أوجه التشابه بينهم؟



أوجه التشابه

أوجه الاختلاف





عائلي



تتبع النقاط ثم صل الكلمة بالصورة المناسبة، وبعد ذلك اكتب الكلمة تحت الصورة.



الأخ



الجد



الأخت



الأم



الجدة



الأب



هذا العمل حصري على موقع ذاكرولي التعليمي ويسمح بمشاركته فقط ولا يسمح بتداوله على أي مواقع أخرى للمزيد من أعمالنا الحصرية تفضل بزيارة موقعنا الإلكتروني من هنا <https://www.zakrooly.com>



أنا أنمو 

رقم الصور من الأصغر إلى الأكبر. 



(---)



(---)



(---)



(---)

صِل كل صورة بالكعكة المناسبة لكل مرحلة عمرية. 





الفصل الثاني: شجرة العائلة

النظام اليومي



هذه الأنشطة اليومية ليست بالترتيب الصحيح، رتبها مستخدماً الأرقام.



( --- )



( --- )



( --- )



( --- )



( --- )



( --- )



( --- )





هذا العمل حصري على موقع ذاكرولى التعليمي ويسمح بمشاركته فقط ولا يسمح بتداوله على أي مواقع أخرى للمزيد من أعمالنا الحصرية تفضل بزيارة موقعنا الإلكتروني من هنا <https://www.zakrooly.com>



## الكبار والصغار



صِلْ بين كبار الكائنات وصغارها.








تابع جديد زاكروولى على موقعنا  
<https://www.zakrooly.com>

صِلْ بين كبار الكائنات وصغارها.



هذا العمل حصري على موقع ذاكرولى التعليمى ويسمح بمشاركته فقط ولا يسمح بتداوله على أي مواقع أخرى  
 للمزيد من أعمالنا الحصرية تفضل بزيارة موقعنا الإلكتروني من هنا <https://www.zakrooly.com>



## مراحل حياة الإنسان



رَقِّم مراحل حياة الإنسان بالترتيب من الأصغر فالأكبر.



(---)



(---)



(---)



(---)



(---)

صِلْ بين كل مرحلة عمرية بما يناسبها من احتياجات.

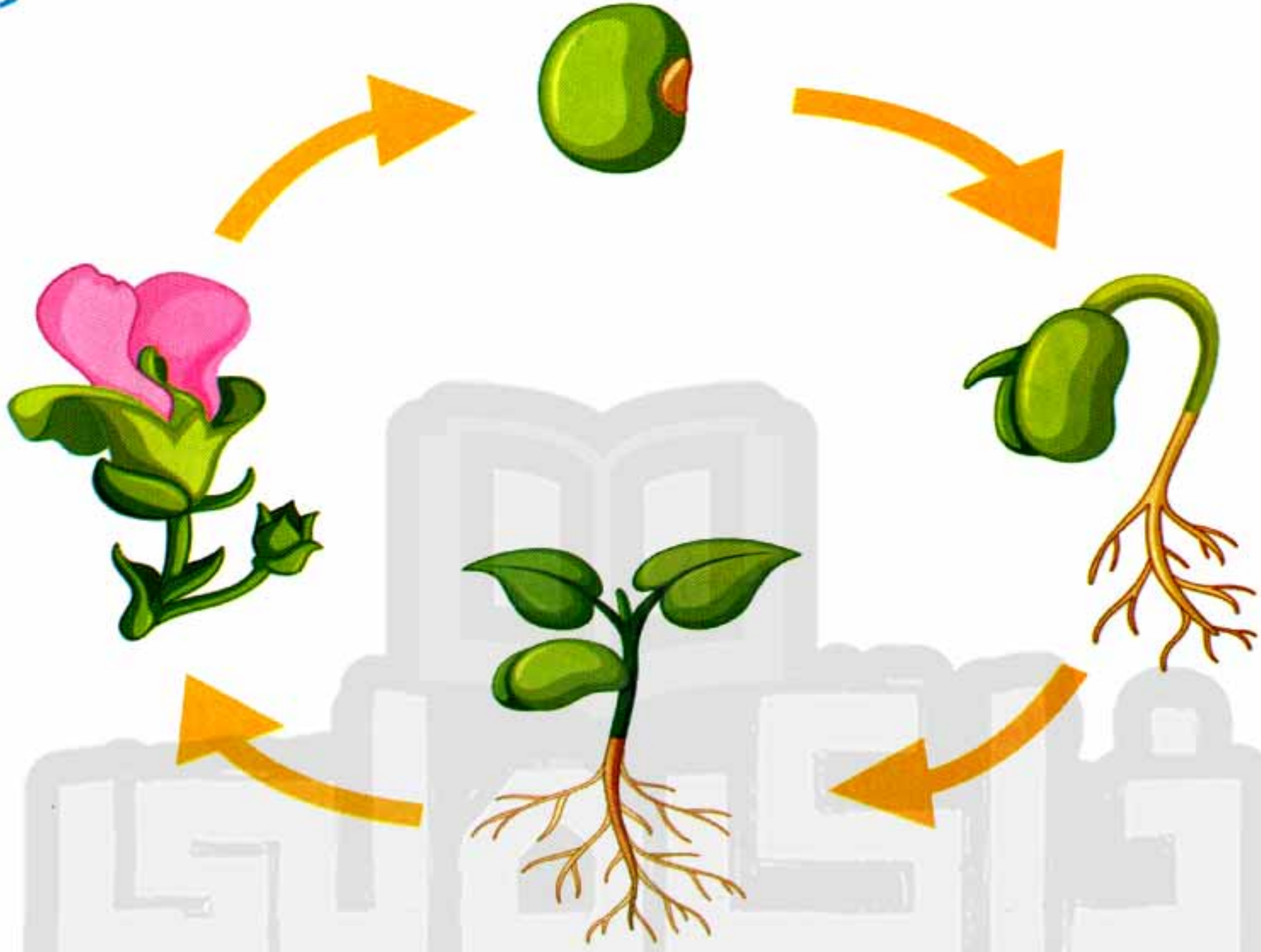




## دورة حياة النبات



ادرس دورة حياة أحد النباتات.



رتب الصور بحسب ترتيب مراحل الحياة.




(---)



(---)



(---)

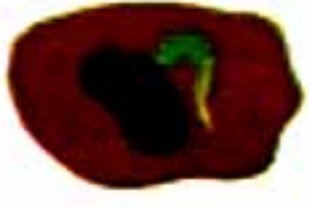


(---)





رتب الصور بحسب ترتيب مراحل الحياة.



(---)



(---)



(---)



(---)

رتب الصور بحسب ترتيب مراحل الحياة.



(---)



(---)



(---)



(---)

اكتب ذاكرولي في البحث وانضم لجدوبات ذاكرولي  
مع رياض الاطفال للصف الثالث الاعدادي

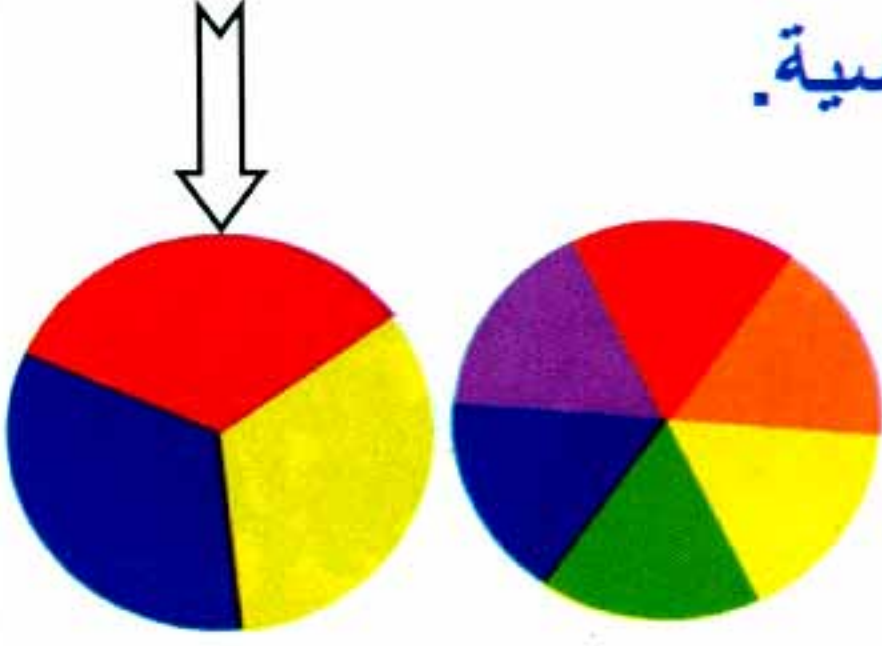





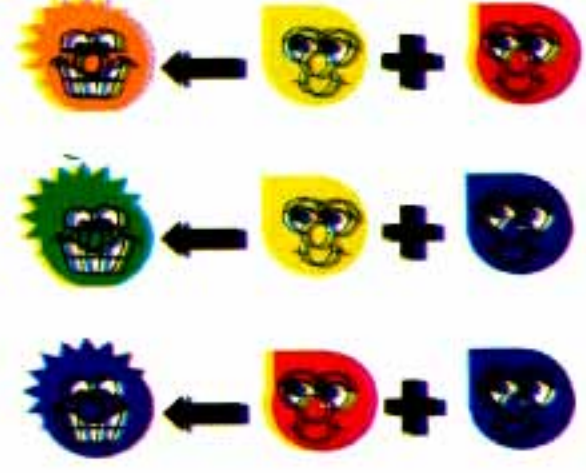
## مزج الألوان



الألوان الأساسية




ابتكر ألواناً جديدة مستخدماً الألوان الأساسية.



=



+

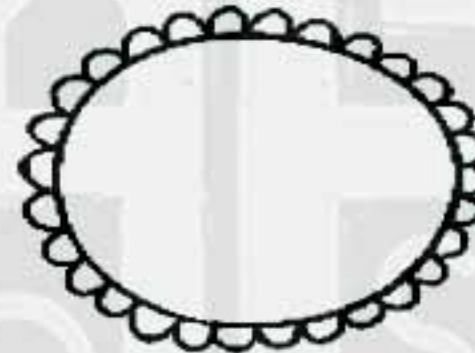


أزرق

أحمر



=




+

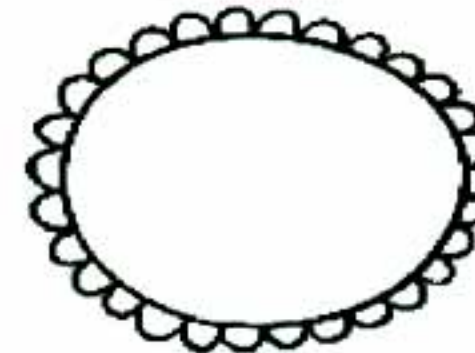


أصفر

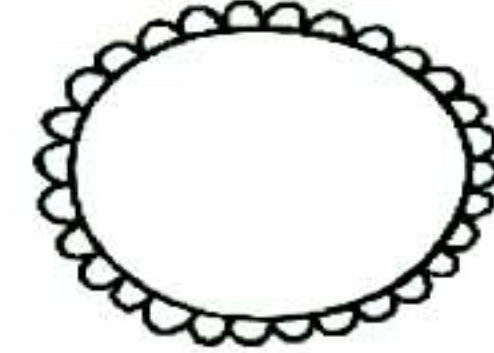
أزرق



=



+



أصفر

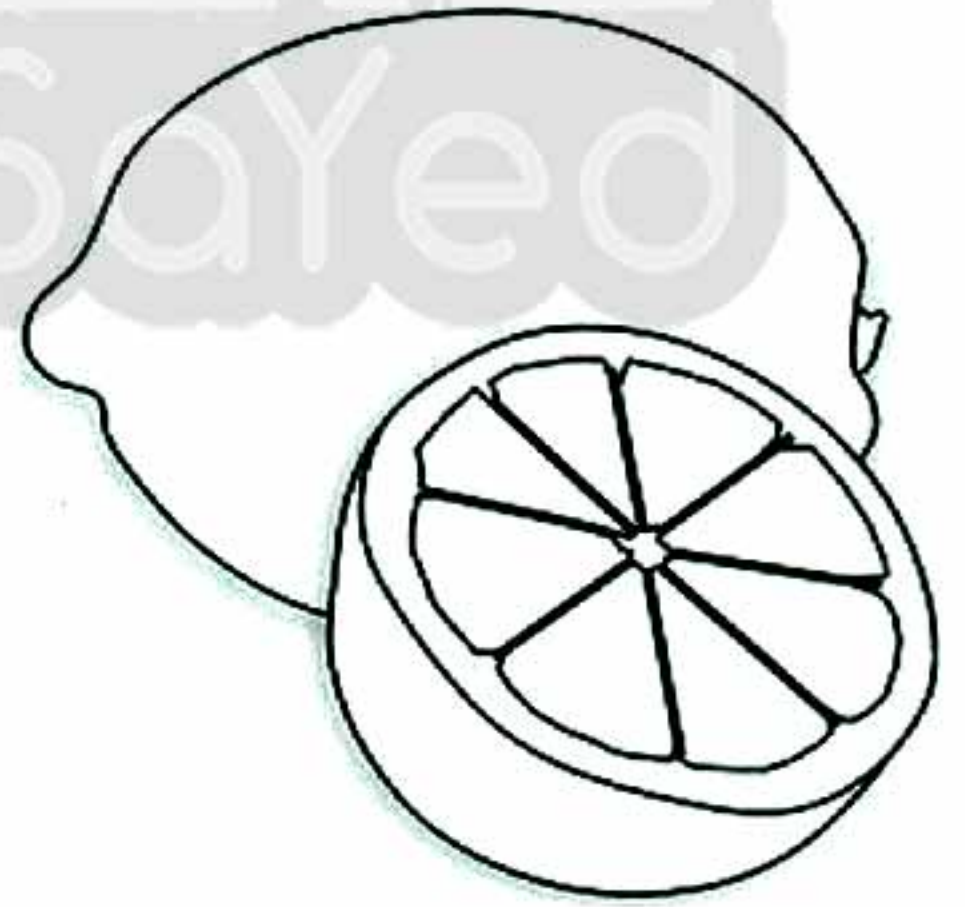



أحمر



١٤



لون كل صورة بما يناسبها من الألوان الرئيسية ( ● ● ● ).






## أفراد عائلتي

تابعنا على صفحتنا على الفيسبوك  
www.facebook.com/ZakroolySite

أكمل شجرة العائلة الكبيرة.



تتبع النقاط ثم حاول كتابة الكلمات بمفردك .



الأب الأم الجدة الجد الأخت الأخ



هذا العمل حصري على موقع ذاكرولي التعليمي ويسمح بمشاركته فقط ولا يسمح بتداوله على أي مواقع أخرى  
للمزيد من أعمالنا الحصرية تفضل بزيارة موقعنا الإلكتروني من هنا <https://www.zakrooly.com>






الفصل الثالث : من نحن؟



رسم بياني مصور


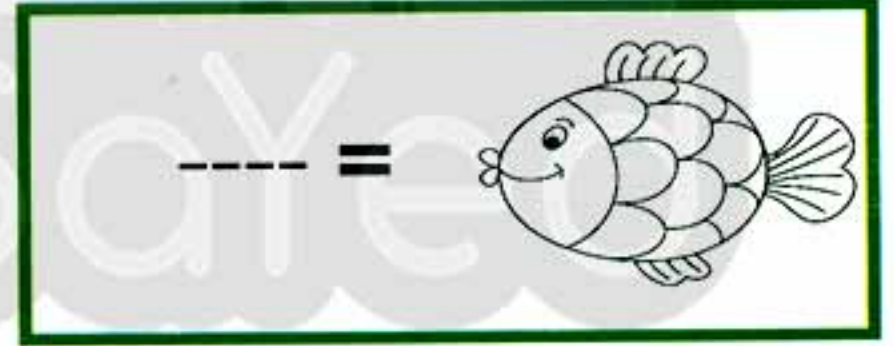

اتبع إرشادات والديك لتلوين الصور البيانية، ثم أجب عن الأسئلة.

حيواناتنا الأليفة


	عصافير
	سمك
	كلاب

المفتاح : كل صورة = ١ حيوان أليف

اكتب العدد المطابق لكل مجموعة من مجموعات الحيوانات الأليفة.



من عدد




عدد

ارسم الرمز الصحيح









عَدّ الأشكال الهندسية الآتية، ثم لَوْن الأشكال المتماثلة بنفس اللون،  
ومثلها تمثيلاً بيانياً مصوراً.



نقوم في أي عمل عليه العلامة ري

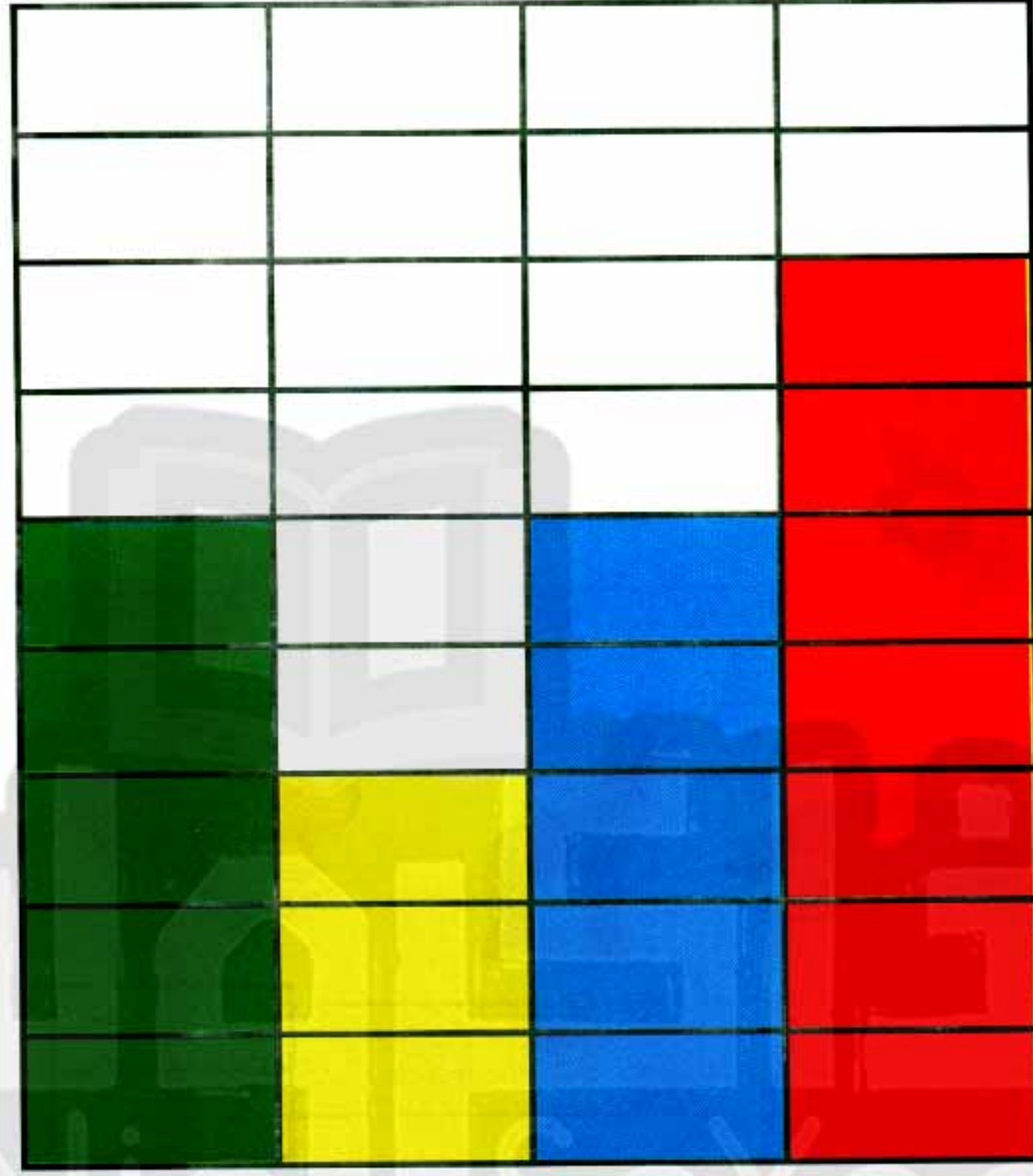




## التمثيل البياني بالأعمدة



استخدم التمثيل البياني بالأعمدة للإجابة عن الأسئلة التالية.



أخضر

أصفر

أزرق

أحمر

أجب عما يأتي.



كم عدد ؟

----- =



----- =



----- =



----- =



ما اللونان المتساويان في العدد ؟ -----





## الكائنات الحية والأشياء غير الحية



قم بإنشاء تمثيل بياني عمودي لعرض عدد الكائنات الحية والأشياء غير الحية.



		٩
		٨
		٧
		٦
		٥
		٤
		٣
		٢
		١
		٠

كائن حي      شيء غير حي

لا تنس الاشتراك في  
قنواتنا ذاكروولي  
على تطبيق التليجرام



هذا العمل حصري على موقع ذاكروولي التعليمي ويسمح بمشاركته فقط ولا يسمح بتداوله على أي مواقع أخرى للمزيد من أعمالنا الحصرية تفضل بزيارة موقعنا الإلكتروني من هنا <https://www.zakrooly.com>



ارسم دائرة حول الصورة التي لا تنتمي لكل مجموعة.





مثل الحلويات الآتية تمثيلاً بيانياً بالأعمدة، ثم أجب عن الأسئلة.



اكتب عدد كل مجموعة من الحلويات.



اكتب الرمز الصحيح



يزيد عدد على عدد



بمقدار ----







## التمثيلات البيانية



أي التمثيلات البيانية التالية تمثيل بياني بالأعمدة؟



وأياها تمثيل بياني بالصور؟



١٠  
٩  
٨  
٧  
٦  
٥  
٤  
٣  
٢  
١

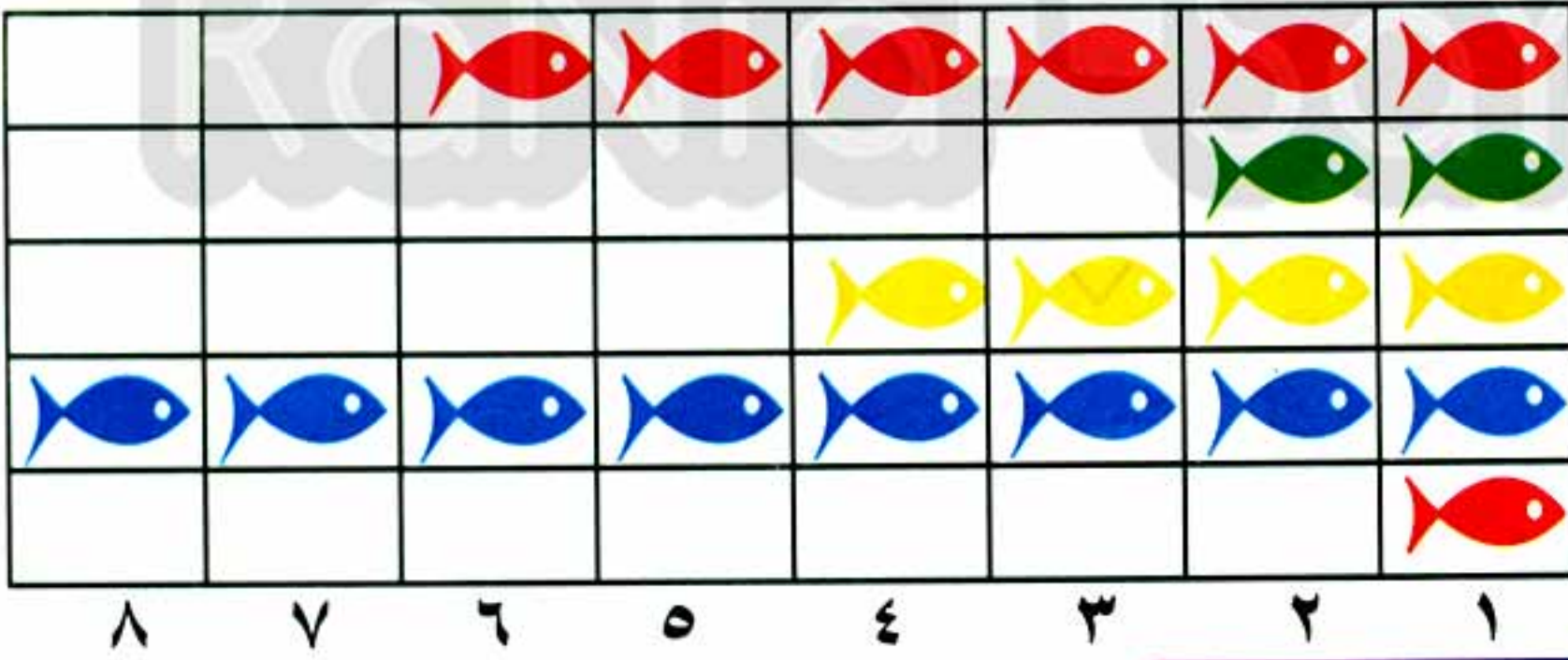
عدد  
الطلبة

اسم التمثيل  
البياني

-----

علوم رسم موسيقى عربي رياضيات

المادة المفضلة



أحمد  
مازن  
سارة  
باسل  
مُعاذ

رحلة  
الصيد

عدد الأسماك

اسم التمثيل البياني

-----

المفتاح: كل صورة = ١ سمكة





الفصل الرابع مجتمعنا

حقوقنا

صِلْ كل حق من الحقوق بما يناسبه.

العيش  
بأمانالتَّعَلُّم  
والعلاجمُشاركة  
الأفكارطعام صحي  
وماء نظيف



## المسؤوليات والقواعد

ضع علامة ( v ) أو ( X ) عند كل موقف من المواقف الآتية.



(---)



(---)



(---)



(---)



(---)



(---)







(---)



(---)



(---)



(---)



(---)



(---)



(---)



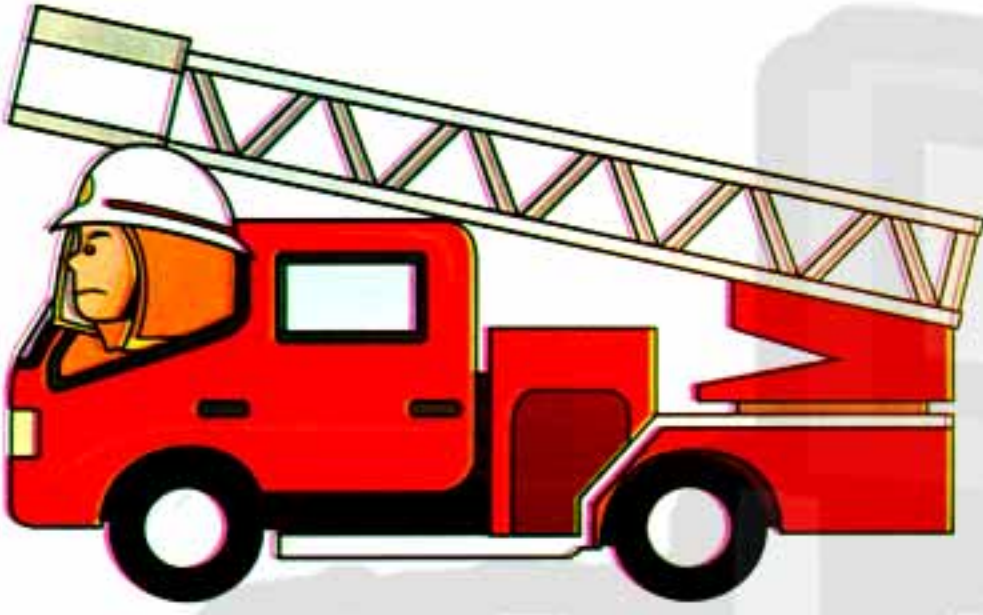
(---)






## أصحاب المهن

صِلْ بين صاحب كل مهنة والمكان الذي يعمل فيه.





ارسم دائرة حول كل ما يخص رجل الإطفاء.



ارسم دائرة حول كل ما هو مرتبط بالطبيب.





## المهن الصناعية



حدّد، ثم صلّ كل مهنةٍ بالمربع المناسب.







الفصل الأول : بينتنا

المحور الثاني :  
العالم من حولي .

الكائنات الحية








لون الكائنات الحية.





لون الدائرة تحت الصورة: الحيوانات باللون الأخضر، والنباتات باللون الأزرق.





هل هذا الكائن حيّ؟



اكتب " نعم " أو " لا " في كل مربع .



الشئ	شجرة	كرسي	بج	صخرة
هل ينمو و يتغير؟				
هل يحتاج الى الغذاء و الماء؟				
هل يحتاج الى الهواء؟				
هل يتحرك بمفرده؟				
هل هو كائن حي؟				

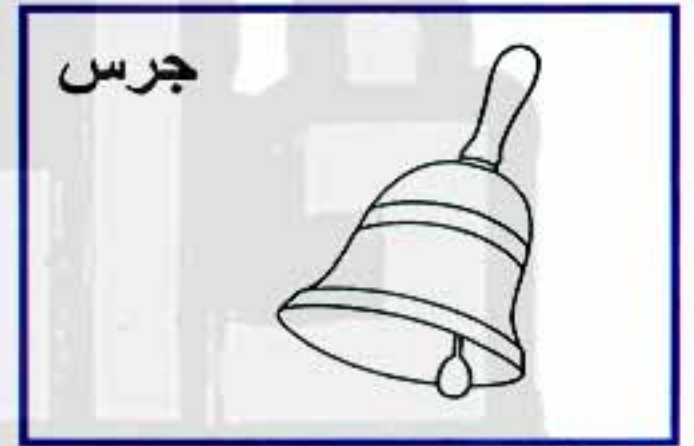
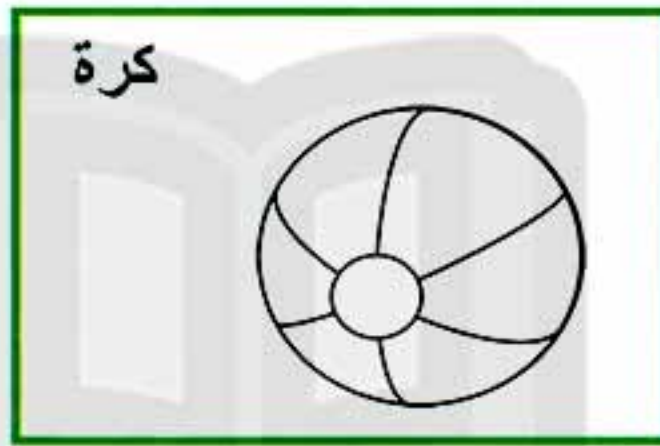
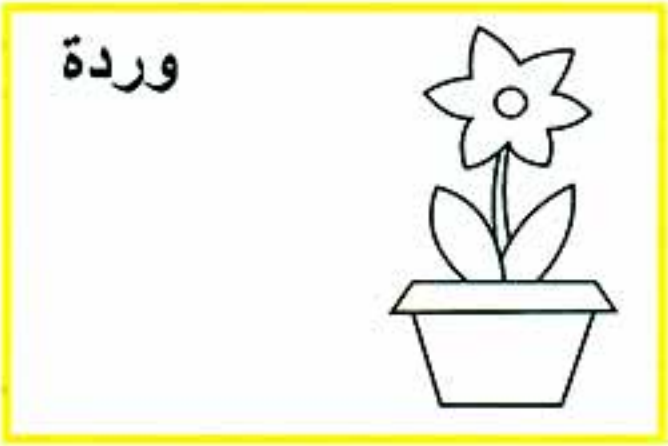
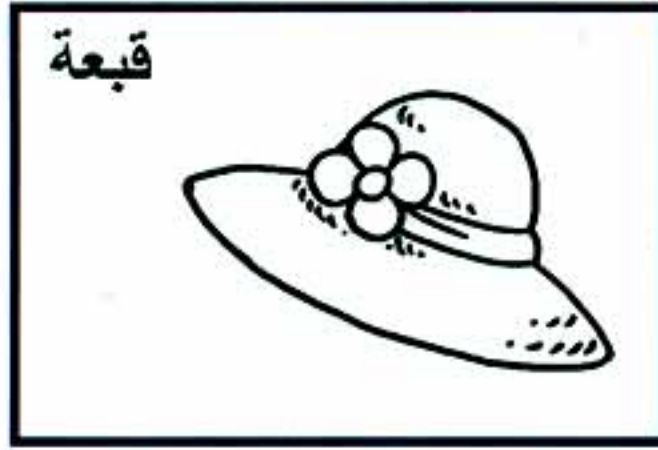




## الكائنات الحية والأشياء غير الحية



لون صور الكائنات الحية باللون الأخضر، والأشياء غير الحية باللون الأزرق.



صنّف الأشياء الموجودة بالأعلى في مجموعات. ثم اكتب كل كلمة في المربع الصحيح.



الكائنات الحية	الأشياء التي تصدر أصواتًا	الأشياء التي يمكننا اللعب بها





التدرب على الكتابة



تدرب على كتابة الكلمات الآتية.

تتبع الكلمة أولاً، ثم اكتبها مرتين بنفسك.

العيش بأمان

التعلم

مشاركة الأفكار

البيئة

حي

غير حي

تابع جديد زاكروولي على موقعنا  
<https://www.zakrooly.com>



هذا العمل حصري على موقع زاكروولي التعليمي ويسمح بمشاركته فقط ولا يسمح بتداوله على أي مواقع أخرى  
 للمزيد من أعمالنا الحصرية تفضل بزيارة موقعنا الإلكتروني من هنا <https://www.zakrooly.com>



## الصحراء



ارسم دائرة حول الحيوانات التي تعيش في الصحراء.



اكتب معلومة مهمة عن الصحراء.





## الدلتا



ارسم دائرة حول الحيوانات التي تعيش في الدلتا.



اكتب معلومة مهمة عن الصحراء.





## أجسامنا مكونة من الماء



هذا هو حجم أجزاء أجسامنا التي تتكون من الماء.



يتكون الجسم من ٧٥% من الماء




اشرب مياهًا بكثرة

اشرب ٨ أكواب من الماء



لون الجسم من أسفل لأعلى، إلى الخط المنقط باللون الأزرق؛ لتمثيل نسبة الماء في الجسم.




تابع جديد زاكروولي على  
فيسبوك  
تويتر  
واتس اب  
تليجرام





حَوِّط عدد أكواب الماء التي تحتاج شربها يوميًا للحفاظ على نسبة الماء في جسمك.



حَوِّط عدد زجاجات الماء التي تحتاج شربها يوميًا؛ للحفاظ على نسبة الماء في جسمك.





## الاهتمام بالبيئة



ضع علامة "X" بالأحمر على السلوك الذي يضر بالبيئة، وارسم دائرة باللون الأخضر حول السلوك الذي يحافظ ويهتم بالبيئة.





## البوصلة وتحديد الاتجاهات



انظر إلى البوصلة، ثم أكمل العبارات التالية.



يقع السوبر ماركت في اتجاه -----

تقع المستشفى في اتجاه -----

تقع ----- في اتجاه الغرب

تقع نقطة إطفاء الحريق في اتجاه -----

انظر في الخريطة، ثم أكمل العبارات التالية.



تقع المستشفى ----- قسم الشرطة .

تقع المدرسة في ----- .

يقع الفندق ----- محطة الوقود .





الفصل الثاني:  
تجول في البيئة

## أجزاء النبات



استخدم بنك الكلمات لكتابة أسماء أجزاء النبات، ثم لون الوردة.

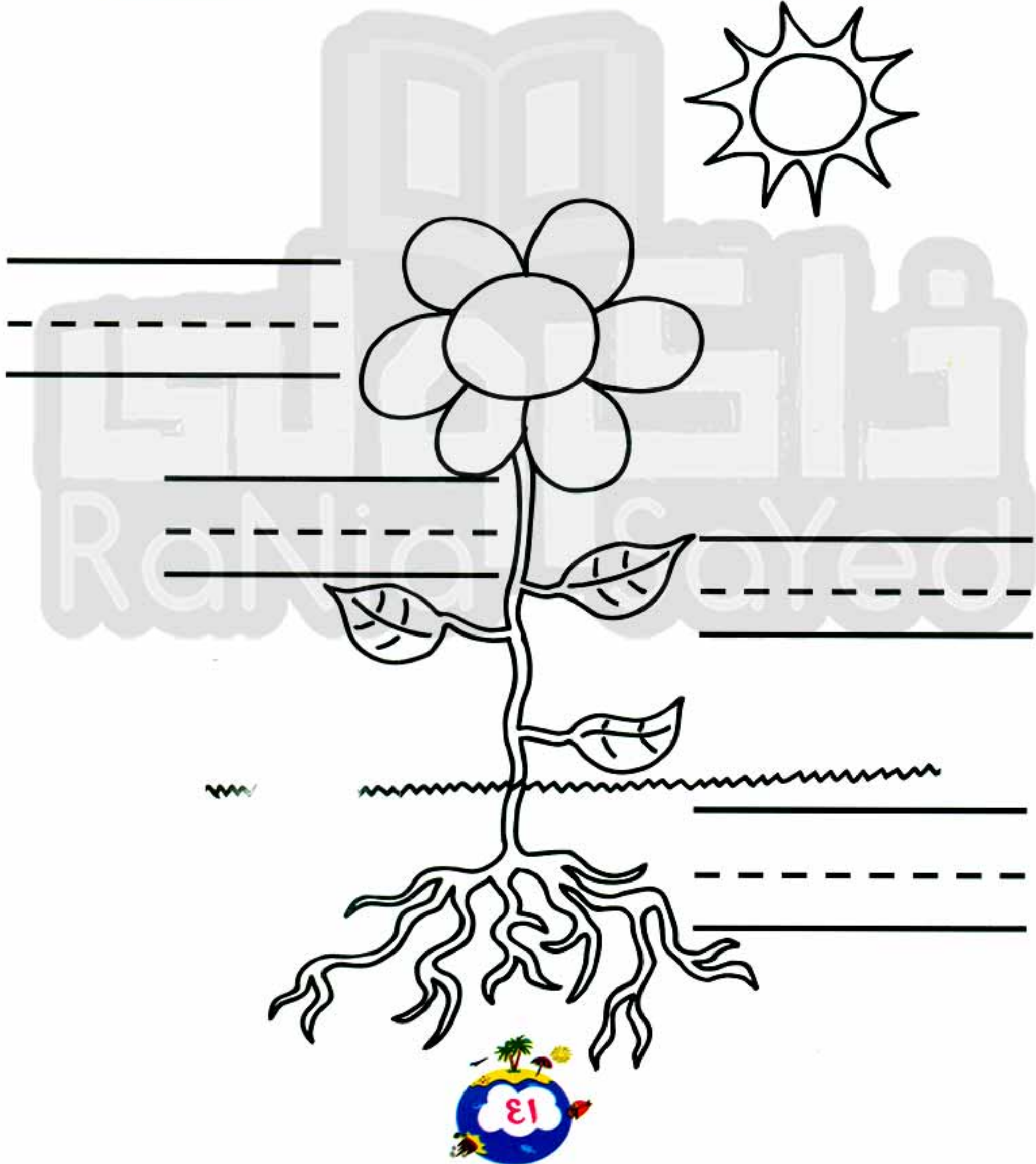


الساق

الجدور

الزهرة

الأوراق





صِلْ كل جزء من أجزاء النبات باسمه ووظيفته.



تحمل النبات  
وتنقل الماء إلى  
باقي أجزائه



الأوراق

تستخدم ضوء  
الشمس لصنع  
الغذاء




الجزور

تتكون بها  
البذور



الزهرة

تثبت النبات في  
الأرض وتمتص  
الماء



الساق





## أجزاء الحيوانات



استخدم بنك الكلمات لكتابة أسماء أجزاء الحيوانات، ثم صل كل جزء بالحيوان المناسب، ويمكن استخدام أكثر من كلمة في الحيوان الواحد.

حوافر

مخالب

زعنفة

جناح

صدفة

قشور

ريش

منقار

ذيل

أسنان

رقبة طويلة

جراب

قرون




---



---



---




---



---



---





---



---



---









## كيف تتحرك الحيوانات









صنّف الحيوانات حسب طريقة حركتها، ثم تتبع الكلمة، وحاول كتابتها بمفردك.

<p>نولفين</p>	
<p>أرنب</p>	
<p>فيل</p>	
<p>فراشة</p>	
<p>جمل</p>	
<p>خفاش</p>	
<p>سمكة</p>	





صرصور	
دب	
بومة	
بطريق	
ضفدعة	

اكتب اسم حيوانك المفضل في كل مجموعة. 

يسير، يجري أو يقفز	يسبح	يطير
حيواني المفضل هو -----	حيواني المفضل هو -----	حيواني المفضل هو -----





## استكشاف حركة الأشياء



اختبر الأشياء، ثم صل كل حركة من الحركات الموضحة بالصور بالوصف المناسب لها.





## استكشاف حركة الأشياء



تابع جديد زاكروولي على موقعنا  
<https://www.zakrooly.com>

صِلْ كل وسيلة نقل باسمها.



طائرة

باخرة

قطار

سيراً على  
الأقدام

سيارة

دراجة




هذا العمل حصري على موقع ذاكروليا التعليمي ويسمح بمشاركته فقط ولا يسمح بتداوله على أي مواقع أخرى  
 للمزيد من أعمالنا الحصرية تفضل بزيارة موقعنا الإلكتروني من هنا <https://www.zakrooly.com>



هل تسبب التلوث؟



ضع علامة ( √ ) تحت وسيلة النقل غير الملوثة للبيئة، وعلامة ( X ) تحت وسيلة النقل الملوثة للبيئة.



( --- )



( --- )



( --- )



( --- )



( --- )



( --- )





الفصل الثالث : زراعة الغذاء  
في العالم من حولنا

حدّد فصل السنة



اكتب اسم الفصل المناسب لكل صورة من بنك الكلمات

الخريف

الربيع

الشتاء

الصيف





اكتب اسم الفصل المناسب لكل مجموعة من بنك الكلمات



الخريف

الربيع

الشتاء

الصيف





## الشتاء أم الصيف



صِلْ، ثم اكتب اسم الفاكهة المناسبة لكل صورة من بنك الكلمات

عنب

برتقال

طماطم


جزر

خيار

موز

مانجو

بطيخ







## الطعام الصحي




لون الدائرة تحت الصورة:

الطعام الصحي

الطعام غير الصحي



اختر وجبتك الصحية، مع توضيح السبب.







## المزارعون



ما الأعمال التي يقوم بها الفلاح؟

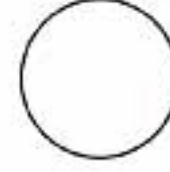

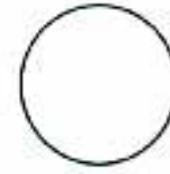




## زراعية أم صناعية



ارسم دائرة خضراء ● حول الصور التي تمثل المهن الزراعية،  
وأخرى حمراء ● حول الصور التي تمثل المهن الصناعية.





## أدوات المزارعين



ارسم دائرة حول الأدوات الزراعية.



اكتب ذاكرولي في البحث وانضم لجروبات ذاكرولي  
مع رياضه الاطفال للصف الثالث الاعدادي



هذا العمل حصري على موقع ذاكرولي التعليمي ويسمح بمشاركته فقط ولا يسمح بتداوله على أي مواقع أخرى  
للمزيد من أعمالنا الحصرية تفضل بزيارة موقعنا الإلكتروني من هنا <https://www.zakrooly.com>



كيف نستخدم النباتات؟



صِلْ كل نبات بمسماه، وبالاستخدام المناسب.

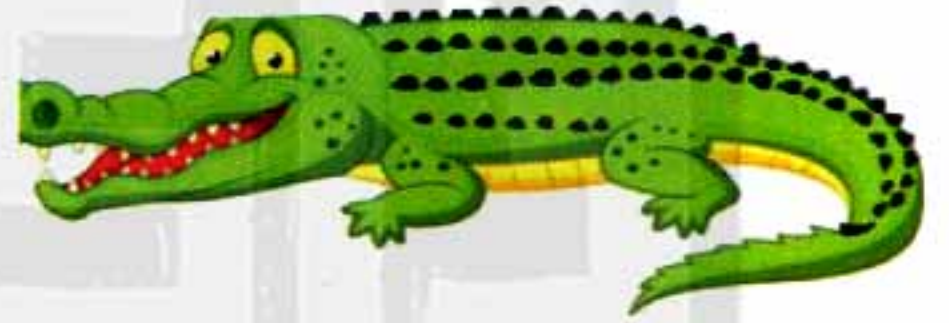







كيف نستفيد من الحيوانات؟



صِلْ كل حيوان بما يناسبه.





الفصل الرابع: الاحتفالات في العالم من حولنا

## الأعياد والمناسبات المصرية

صِلْ كل احتفال أو مناسبة بالصورة المناسبة.



شم  
النسيم



شهر  
رمضان



عيد  
الأضحى



عيد  
الفطر



عيد الميلاد  
المجيد



المولد  
النبوي





## التقاليد المصرية




صِلْ كل تقليد مصري بالنوع المناسب.



الملاءة اللف

أطعمة  
مصرية



رقصة التنورة



السسمية

من الأغاني  
والرقصات  
المصرية



فول وفلافل



كشري

ملابس  
مصرية



الربابة



الجلابية والقفطان





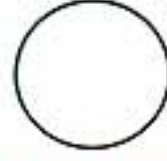
ملوخية



هذا العمل حصري على موقع ذاكرولى التعليمي ويسمح بمشاركته فقط ولا يسمح بتداوله على أي مواقع أخرى للمزيد من أعمالنا الحصرية تفضل بزيارة موقعنا الإلكتروني من هنا <https://www.zakrooly.com>



لوّن الدائرة حول المأكولات المصرية الشهيرة.



لوّن الدائرة حول الملابس المصرية الشهيرة.





## الآثار المصرية




صِل كل موقع أثري باسمه.

تابعنا على صفحتنا على الفيسبوك  
www.facebook.com/ZakrolySite

معبد  
الأقصر



أهرامات  
الجيزة



معبد  
حتشبسوت



تمثال أبي  
الهول



هذا العمل حصري على موقع ذاكرولي التعليمي ويسمح بمشاركته فقط ولا يسمح بتداوله على أي مواقع أخرى  
للمزيد من أعمالنا الحصرية تفضل بزيارة موقعنا الإلكتروني من هنا <https://www.zakrooly.com>



ضع علامة ( √ ) أمام السلوك الصحيح، وعلامة ( X ) أمام السلوك الخاطئ عند زيارة الآثار.

